


Activitat "Unitats del metre"

Ordena els elements segons l'alçada, de més ALT a més BAIX:



Escriu en quina unitat: quilòmetre, metre, centímetre o mil·límetre, expressaries aquestes mesures:


- a) La longitud d'una CULLERETA
- b) L'alçada d'un EDIFICI
- c) El gruix d'una moneda
- d) La distància entre BARCELONA i MADRID
- e) L'alçada d'una persona

Relaciona cada longitud amb la seva mesura aproximada:

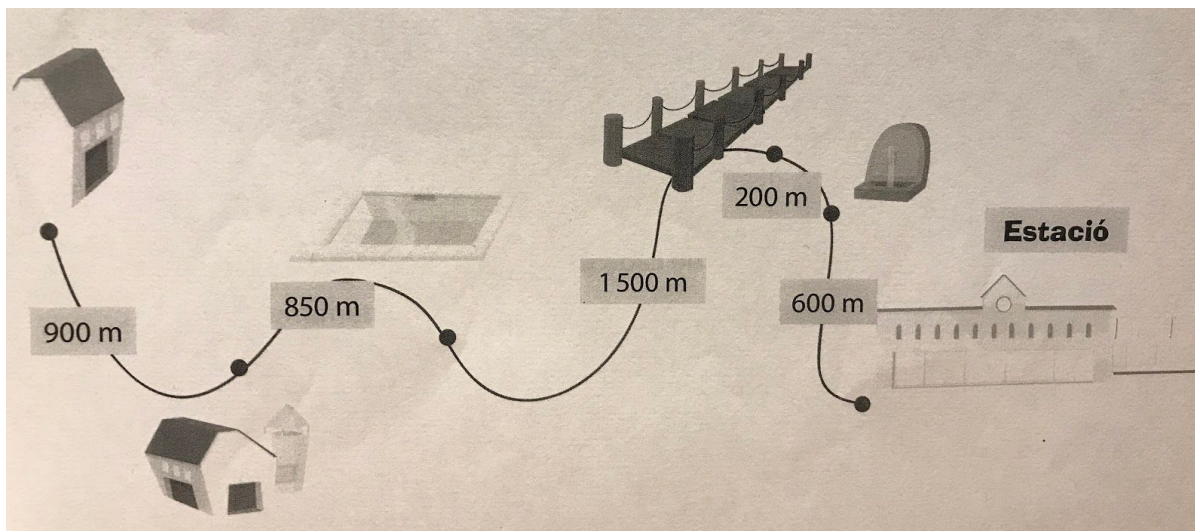
- Llargada d'un camp de futbol 13 m
- Llargada del teu estoig 400 m
- Un autocar 620 km
- Distància entre Barcelona i Bilbao 18 cm

Completa:

- a) La unitat internacional de mesura és el
- b) Amb el metre podem mesurar i
- c) 1 metre són centímetres
- d) 6 metres sóncentímetres
- e) 500 centímetres són metres
- f) 1 centímetre són mil·límetres



Observa el dibuix i contesta:



- a) Quants metres hi ha de l'ESTACIÓ al PONT DE FUSTA?
- b) Quin és el tram de camí més llarg? I el més curt?
- c) Quants metres té tot el camí? I quants quilòmetres?